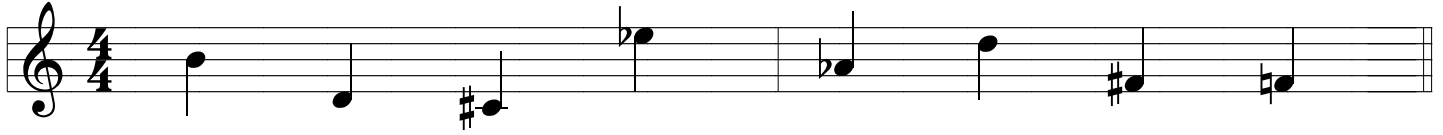
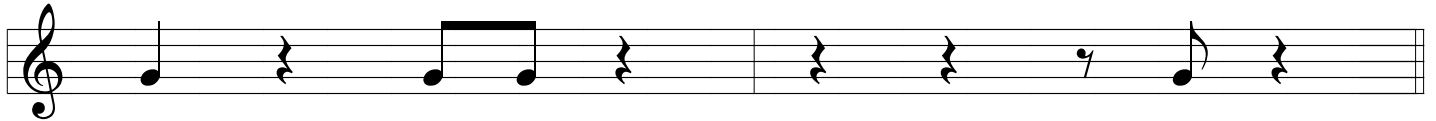


# Hjemmeopgave til fredag 5/12

HVAD HEDDER NODEN? Skriv navnet under (fx a, d dis eller des)



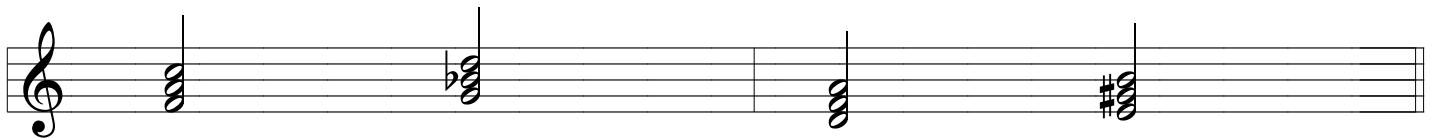
HVILKET SLAG? Skriv slaget under hver node (fx 2 eller 3-og)



HVILKET SLAG? Skriv slaget under hver node (fx 2 eller 3-og)



HVILKEN AKKORD? Skriv becifringen under hver 3-klang (fx D eller Dm)



HVILKE TONER? Skriv tonerne der hører til akkorden i nodesystemet

